

令和 6 年度

県立高等学校入学者選抜
学力検査問題

社 会

注 意

- 1 「始め」の合図があるまでは、問題用紙を開いてはいけません。
- 2 問題用紙は表紙を入れて15ページあります。
また、問題は大問【1】から【6】まであります。
- 3 答えは、すべて別紙の解答用紙に記入しなさい。
- 4 「やめ」の合図で、すぐに筆記用具を置きなさい。

【1】 世界のさまざまな地域について、次の各問いに答えなさい。

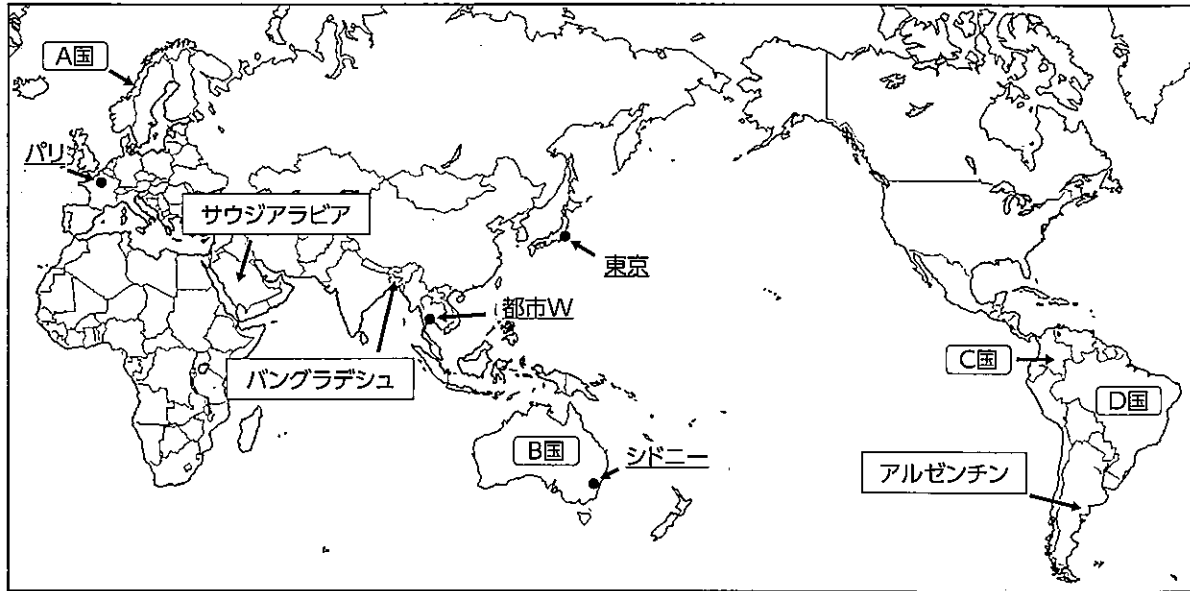


図1

問1 アオイさんは旅行のため、7月23日の午前9時発の飛行機で東京からシドニーへ出発し、10時間後に到着した。到着した際に予想されることとして適当なものを、次のア～エのうちから1つ選び、記号で答えなさい。シドニーの標準時子午線は東経150度とし、サマータイムは考慮しないこととする。

- ア シドニーの日付は7月24日になっていた。
- イ シドニーの時刻は午後6時だった。
- ウ 東京よりもシドニーの気温が高く、アオイさんは半袖に着替えた。
- エ 東京よりもシドニーの気温が低く、アオイさんは長袖に着替えた。

問2 次の表1は図1の都市Wと東京の雨温図である。都市Wと東京の雨温図を比べて、都市Wがサバナ気候と判断できる理由を降水量の観点から20字以内で答えなさい。(句読点も1字に含む。)

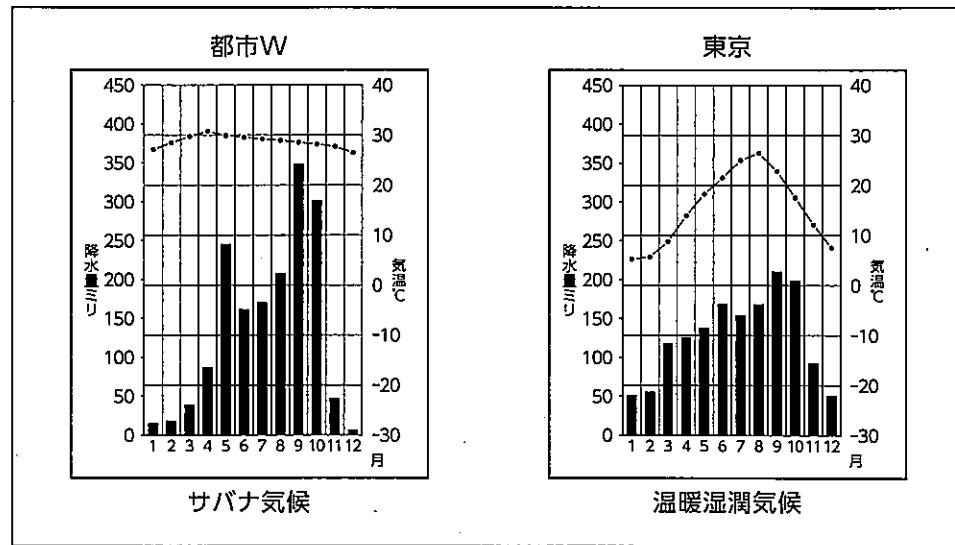


表1 (理科年表 2020より作成)

問3 図1中のA国～D国は、多様な文化を形成している国々である。A国～D国の説明として適当なものを、次のア～エのうちから1つ選び、記号で答えなさい。

- ア A国では、空港や街なかで見られる標識や看板などに英語とフランス語が併記されている。
- イ B国では、先住民マオリの言語が公用語として認められている。
- ウ C国では、先住民と白人との間に子どもが生まれ、メスチーソとよばれる混血の住民も増えた。
- エ D国では、アフリカから奴隷として連れてこられた人々とヨーロッパの人々の異なる文化がふれあうことで、ジャズなどの新しい文化が生まれた。

問4 次の会話は、アフリカ州の経済について探究学習中の時、先生の発問をきっかけにユウトさんとヒナさんが、アフリカ州の歴史と現在の社会の関係性について理解した場面である。次の問いに答えなさい。

先生：アフリカ州は現在でも経済的に不安定な国が多くを占めています。それはどのような理由からでしょうか。授業で学んだことをふまえて歴史から考えてみましょう。

ユウトさん：アフリカ州にはどんな歴史があったかな。

ヒナさん：19世紀後半からヨーロッパ諸国の植民地となっていたことがあったわね。

ユウトさん：過去にヨーロッパ諸国の植民地になっていたことと、現在のアフリカ州の経済に関係があるのかな。

ヒナさん：アフリカ州には、ヨーロッパ諸国の植民地支配の影響で、特定の鉱産資源や農作物の輸出に頼った ① 経済の国が多くあるわね。

ユウトさん：図2のコートジボワールとナイジェリアの輸出品を見るとそれがよく理解できるね。

ユウトさん：過去の様々な出来事から影響を受けて現在の社会は成り立っているんだね。

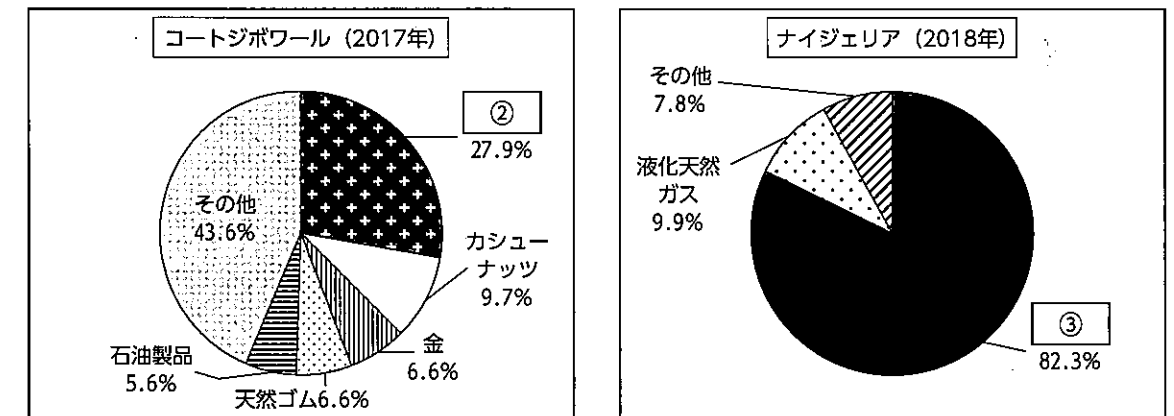


図2 アフリカ2か国の主な輸出品 (UN Comtradeより作成)

- (1) ① にはあてはまる語句をカタカナで答えなさい。
- (2) 図2より、② と ③ にはあてはまる語句の組み合わせとして適当なものを、次のア～エのうちから1つ選び、記号で答えなさい。
- ア ② カカオ ③ 原油 イ ② 原油 ③ カカオ
 - ウ ② パナナ ③ 銅 エ ② 銅 ③ パナナ

問5 次の図3はリクさんが「気候と農業と人々の生活の関係」について調べた資料をまとめたものである。Xに共通してあてはまる語句を答えなさい。また、Yに入る【写真】として適当なものを、次のア～ウのうちから1つ選び、記号で答えなさい。

「気候と農業と人々の生活の関係」
 地域：アンデス山脈の周辺
 気候：Xが高く1日の昼と夜の気温差が大きい
 人々の暮らし：Xによって、気温が変化するため、その変化に合わせた農牧業が行われている。
 例：じゃがいもやとうもろこしの栽培

Y

写真：強い紫外線と寒さに強い伝統衣装

図3

【写真】

ア



イ



ウ



問6 次の【写真】a～cと【説明文】ア～ウは図1中のサウジアラビア、バングラデシュ、アルゼンチンを示している。サウジアラビアにおける主な産業の写真と説明文として適当なものを、次の【写真】と【説明文】からそれぞれ1つずつ選び、記号で答えなさい。

【写真】

a



b



c



【説明文】

ア パンパとよばれる大草原で肉牛を放牧し、牛肉はこの国の主な輸出品の一つである。

イ 豊富な労働力を安く得られ農村部から働きに来ている人もたくさんいる。

ウ 原油がおもな輸出品であり、労働者の不足を外国人労働者に頼っている。

【2】 日本のさまざまな地域について、次の各問いに答えなさい。

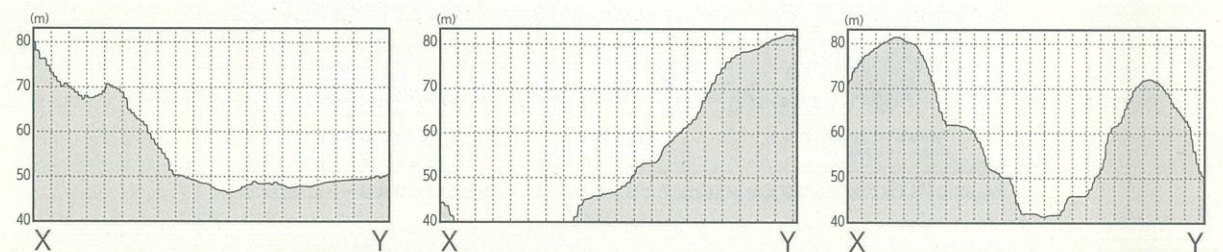


図1 鶴川駅周辺 (出典 地理院地図 (電子国土Web) より加工して作成)

問1 図1中のA～Dの地図記号の組み合わせとして、正しいものを、次のア～エのうちから1つ選び、記号で答えなさい。

- | | | | | |
|---|---------|---------|---------|-------------|
| ア | A 高等学校 | B 老人ホーム | C 郵便局 | D 図書館 |
| イ | A 図書館 | B 市役所 | C 老人ホーム | D 発電所 (変電所) |
| ウ | A 小・中学校 | B 警察署 | C 寺院 | D 小・中学校 |
| エ | A 図書館 | B 交番 | C 神社 | D 高等学校 |

問2 図1のX-Yに沿って切り取った断面の模式図として最も適当なものを、次のア～ウのうちから1つ選び、記号で答えなさい。



ア

イ

ウ

問3 図2は日本、インドネシア、ニュージーランド、アメリカ合衆国の国土面積と排他的経済水域の面積を示している。A以外の国における排他的経済水域の面積が国土面積よりも広がっている理由を述べた文章の(ア)と(イ)に適語を入れて説明文を完成させなさい。(イ)は漢字二文字で答えなさい。

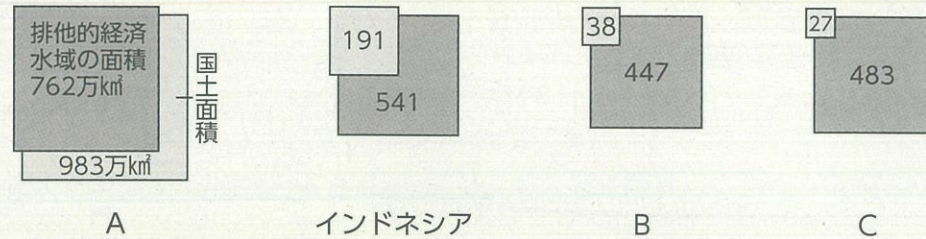


図2 各国の排他的経済水域の面積 (2018漁港漁場漁村ポケットブック)

【理由】

A以外の国土面積が小さいのは、Aが大陸国であり、インドネシア、B、Cは(ア)国だからである。これらの国は、点在した(ア)をたくさん保有していることから、それに接続する(イ)とそれに続く排他的経済水域が大きくなっている。

問4 図3は、日本の資源・エネルギーに関する取り組みを示したものである。図3に関連することについて、適当でないものを、次のア～エのうちから1つ選び、記号で答えなさい。

図3 寒川町商工会ホームページより (一部加工)

- ア レアメタルは、パソコンや携帯電話などの生産に欠かせない金属である。
- イ 図3は、持続可能な社会を実現するための取り組みの1つである。
- ウ 人口が集中する都市には、多くの電子機器の廃棄物が存在するため、都市鉱山と呼ばれている。
- エ レアメタルは、埋蔵量が多く純粋なものを取り出すことが技術的にも簡単である。

問5 表1は、日本のおもな食料(米、野菜、肉類、果実、小麦)の自給率変化を表している。果実の自給率変化としてあてはまるものを表1中のア～エのうちから1つ選び、記号で答えなさい。

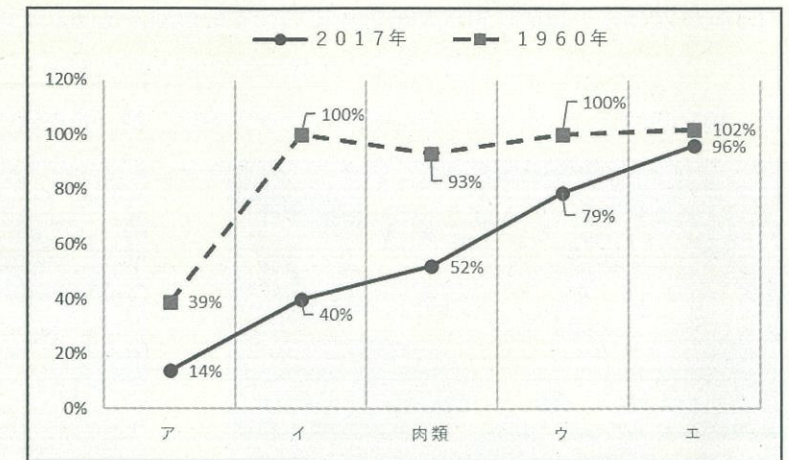


表1 日本のおもな食料自給率変化 (平成30年度食料需給表)

問6 表2は高橋さんが、住んでいる愛媛県と人口数がほぼ同じX県があることを社会の授業で知り、愛媛県とX県の特徴についてまとめたものである。次の問いに答えなさい。

	人口	面積	人口密度	農業算出額	漁業生産量	特産物	工業生産総額	おもな工業	観光名所	伝統工芸品
愛媛県	138万人	5676km ²	243 (人/km ²)	1233億円	13.8万トン	ぶり・たい	42008億円	石油化学	道後温泉、瀬戸内しまなみ海道	今治タオル
X県	138万人	6113km ²	226 (人/km ²)	654億円	2.7万トン	ふぐ	61307億円	石油化学	萩の町なみ、秋吉台、錦帯橋	赤間すずり

表2

- (1) X県にあてはまるものを、図4中のア～オのうちから1つ選び、記号で答えなさい。
- (2) X県の県名を漢字で答えなさい。

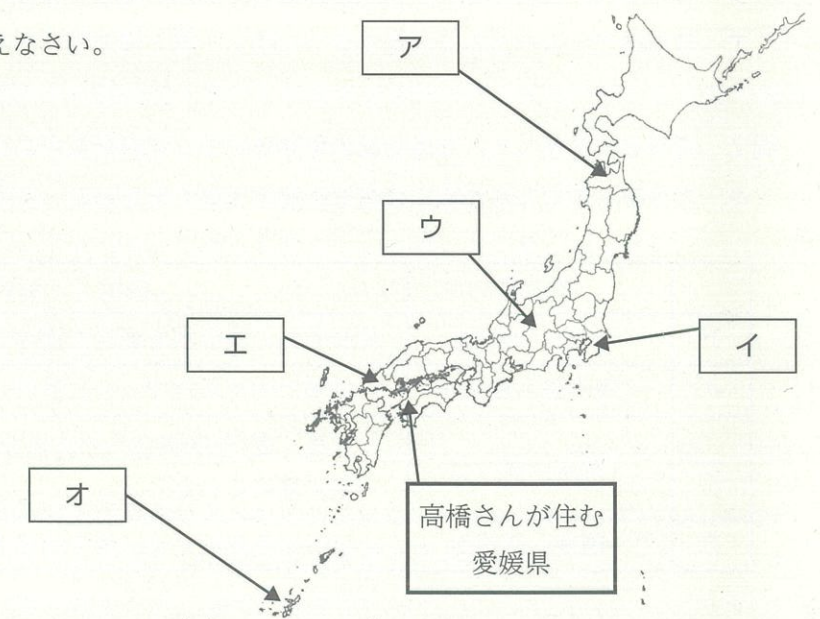


図4

【3】 次のA～Dは、古代から近世についての資料である。次の各問いに答えなさい。

A 縄文時代



B 弥生時代



C 鎌倉時代



D 江戸時代



問1 資料Aと資料Bには、人々の生活の特徴が表れている。その説明として最も適当なものを、次のア～エのうちから1つ選び、記号で答えなさい。

- ア Aの時代、米の保存や煮炊きに適した薄くて硬い土器が使用された。
- イ Aの時代、青銅器や鉄器が中国や朝鮮から伝わった。
- ウ Bの時代、食料の保存や煮炊きのため、表面に縄目の文様の土器が使用された。
- エ Bの時代、ムラとムラの間で争いが生じ、柵と濠を張りめぐらせた集落が形成された。

問2 資料Bに関連して、邪馬台国の卑弥呼についての記載がある中国の歴史書として正しいものを、次のア～エのうちから1つ選び、記号で答えなさい。

	歴史書	説明 (一部要約・抜粋)
ア	「漢書」地理志	朝鮮半島の楽浪郡を超えた海の向こうに倭人が住んでいる。
イ	「後漢書」東夷伝	…倭国は内乱などで大いに乱れ、長い間統一されなかった。
ウ	「魏志」倭人伝	…死後、直径100歩余りの大きな塚を造り、100人余りの奴隷と一緒に埋められた。
エ	「隋書」倭国伝	…日出づる処の天子、書を日没する処の天子に致す。

問3 資料Cは、鎌倉時代の武士の様子である。武士は日頃から武芸の鍛錬をしていた。その理由として適当でないものを、次のア～エのうちから1つ選び、記号で答えなさい。

- ア 倭寇を取り締まるため。
- イ 御恩と奉公の義務を負ったため。
- ウ 戦において手柄を取るため。
- エ 先祖から引き継いできた領地を守るため。

問4 資料Cの時代、元寇が起こり、御家人の生活に影響を与えた。元寇後の御家人の生活について述べた説明文の(A)に適語を答えなさい。また、(B)には幕府の対応の説明が入る。その説明として最も適当なものを、次のア～エのうちから1つ選び、記号で答えなさい。

(説明文)

元寇は防衛戦であったため、御家人は十分な恩賞をもらえないまま海岸警備の負担も続いた。さらに、武士の領地は(A)して相続されたため、御家人の中には生活が苦しくなる者が出たため、幕府は(B)

【Bの選択肢】

- ア 楽市令を出し、市場での税を免除したので商工業が活発になった。
- イ 徳政令を出して御家人を救おうとしたが、一時的な効果しかなかった。
- ウ 御成敗式目を制定し、武士の慣習をまとめ武家政治の基準とした。
- エ 御家人や豪商に朱印状を与えて収入の一部を幕府へ納めさせた。

問5 資料Cの時代と資料Dの時代の間、琉球王国が成立し、日本や中国(明)、朝鮮半島、東南アジアの国々と盛んに交易を行い、大いに繁栄した。琉球産の交易品として最も適当なものを、次のア～エのうちから1つ選び、記号で答えなさい。

- ア 武具
- イ 硫黄
- ウ 象牙
- エ 陶磁器

問6 資料Dの時代、江戸幕府は武家諸法度を制定し各大名を統制した。その内容として最も適当なものを、次のア～エのうちから1つ選び、記号で答えなさい。

- ア 守護の職務は、京都の警備、謀反や殺人などの犯罪者を取り締まることである。
- イ 他の国や領地から住みついた者でも、以前から住んでいた者と同じ扱いとする。
- ウ 宣教師は今後、日本にいないことはできない。
- エ 文武弓馬の道にひたすら励むようにせよ。

問7 資料Dの時代、江戸幕府が行った主な政策について、次のア～エを古い順に並べ替えなさい。

- ア 動物愛護を定めた、生類憐みの政策を行った。
- イ 大名が1年おきに領地と江戸を往復する参勤交代の制度を定めた。
- ウ 幕府の財政の立て直しに取り組むため、享保の改革を行った。

【4】 花子さんは、2024年にパリオリンピックが開かれることを知り、これまでのオリンピックの開催国の中で興味を持った国について調べ、新しい順に図1の年表にまとめた。次の各問いに答えなさい。

開催年(回)	開催国(都市), 特徴など
2024年(第33回)	① フランス(パリ)
2021年(第32回)	日本(東京) …2020年開催が1年延期された
2012年(第30回)	② イギリス(ロンドン)
2008年(第29回)	③ 中国(北京)
④ 1972年(第20回)	西ドイツ(ミュンヘン)
1964年(第18回)	⑤ 日本(東京) …アジアで初めてのオリンピック開催

図1

問1 下線部①について、図2はフランスで1789年に起こった革命の様子である。この革命に関して最も適当なものを、次のア～エのうちから1つ選び、記号で答えなさい。



図2

ア 植民地の人々に、戦争費用を賄う新しい税を課すことが決まったことに反発し、独立戦争が起こった。

イ 人間は生まれながらにして自由かつ平等であるとする「人権宣言」が採択された。

ウ 国王は、議会の承認なく法律を停止することはできないとする「権利の章典」が制定された。

エ 革命によって皇帝が退位し、世界で初めて社会主義国家が誕生した。

問2 下線部②について、明治時代の日本は、イギリスなどの欧米から外国人技術者や学者を招き、各地に官営模範工場を造った。図3は、官営模範工場の1つである。このような工場が造られた理由として適当なものを、次のア～エのうちから1つ選び、記号で答えなさい。




図3

ア 長崎での貿易統制によって、輸入が減った絹織物などを国産化するため。

イ 国を豊かにして力をつけ、欧米諸国に劣らない強い国をつくるため。

ウ 第一次世界大戦の影響で、連合国やアメリカへの工業製品の輸出が増えたため。

エ 積極的に公共事業をおこし、世界恐慌で職を失った失業者を助けるため。

問3 下線部③について、次のA～Dは中国における19世紀から20世紀の出来事である。これらを古い順に並べた時の正しい組み合わせを、次のア～エのうちから1つ選び、記号で答えなさい。

- A 義和団とともに列強に宣戦布告をしたが、列強の連合軍に敗れた。
- B 孫文が臨時大総統になり、アジア初の共和国である中華民国の成立が宣言された。
- C イギリスとのアヘン戦争に敗れ、香港島を譲り渡し、ばく大な賠償金を支払った。
- D 毛沢東の率いる中国共産党が、中華人民共和国を成立させた。

- ア A→B→C→D イ B→A→C→D
- ウ C→A→B→D エ D→B→C→D

問4 下線部④について、この年に沖縄の施政権が日本へ返還された。明治時代以降の沖縄について説明した文の正誤の組み合わせとして正しいものを、次のア～エのうちから1つ選び、記号で答えなさい。

- A 琉球最後の国王は、尚真である。
- B サンフランシスコ平和条約が結ばれ、日本はアメリカ軍が引き続き国内に軍事基地をおくことを認めた。

	A	B
ア	正	正
イ	正	誤
ウ	誤	正
エ	誤	誤

問5 下線部⑤について、1940(昭和15)年にも第12回オリンピックが東京で予定されていたが、開催できなかった。その理由として最も適当なものを、次のア～エのうちから1つ選び、記号で答えなさい。

- ア 関東大震災で経済に大きな打撃を受けたため。
- イ 満州国が承認されず、日本が国際連盟を脱退したため。
- ウ 盧溝橋事件をきっかけに日中戦争が始まったため。
- エ 日本がアメリカ・イギリスに宣戦布告し、太平洋戦争が始まったため。

問6 下線部⑥について、このオリンピックは、高度経済成長期に開催された。花子さんは、この時期の社会の変化について図4、図5から読み取ったことをまとめた。次の文を完成させなさい。

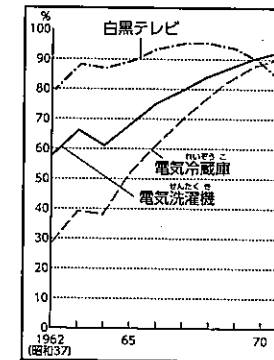


図4

(「日本統計年鑑」ほか)
※ %は、普及率を示す



図5


(三重県四日市市 1965年)

(まとめ)

(X) して、生活水準が高まった一方で、(Y) などの社会問題が発生した。

【5】 次の【資料Ⅰ】～【資料Ⅶ】は海さんの憲法に関する疑問と学習メモである。次の各問に答えなさい。

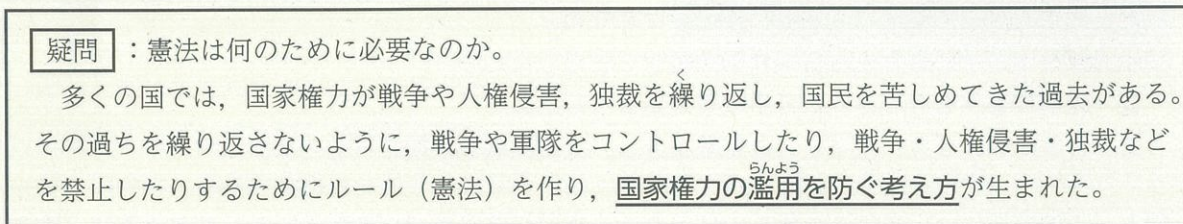
【資料Ⅰ】



問1 資料Ⅰについて、GHQが作成したポスターは大日本帝国憲法から日本国憲法に変わったことを示したものである。具体的にどのような内容に変わったか。その説明文として最も適切なものを、次のア～エのうちから1つ選び、記号で答えなさい。

- ア 天皇は、政治を行う権限を持つ日本国民統合の象徴になった。
- イ 選挙は、納税の有無や納税額にかかわらず、20歳以上の男女普通選挙になった。
- ウ 国民の義務は、勤労、納税、兵役になった。
- エ 国民の権利は、基本的人権として法律の範囲内で尊重されるようになった。

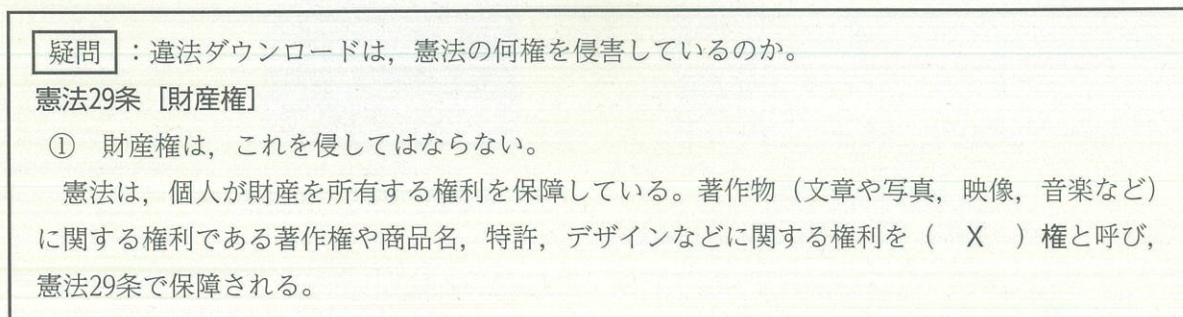
【資料Ⅱ】



問2 資料Ⅱについて、「憲法によって国家権力の濫用を防ぐ考え方」を何主義というか、次のア～エのうちから1つ選び、記号で答えなさい。

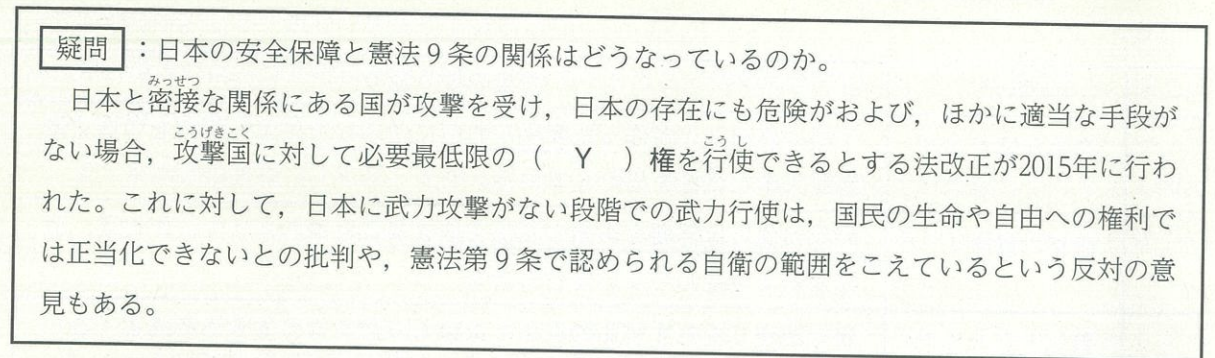
- ア 立憲主義
- イ 帝国主義
- ウ 地域主義
- エ 平和主義

【資料Ⅲ】



問3 資料Ⅲについて、（ X ）に当てはまる語句を答えなさい。

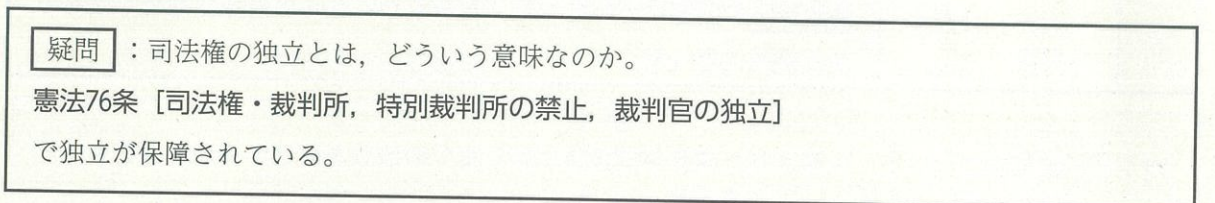
【資料Ⅳ】



問4 資料Ⅳについて、（ Y ）に当てはまる語句を、次のア～エのうちから1つ選び、記号で答えなさい。

- ア 団体交渉
- イ 個別的自衛
- ウ 集団的自衛
- エ 実用新案

【資料Ⅴ】

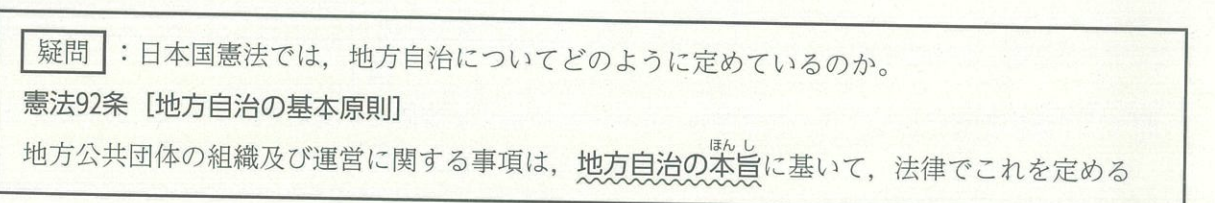


問5 資料Ⅴについて、司法権の独立について説明したA～Cの正誤の組み合わせとして正しいものを、次のア～エのうちから1つ選び、記号で答えなさい。

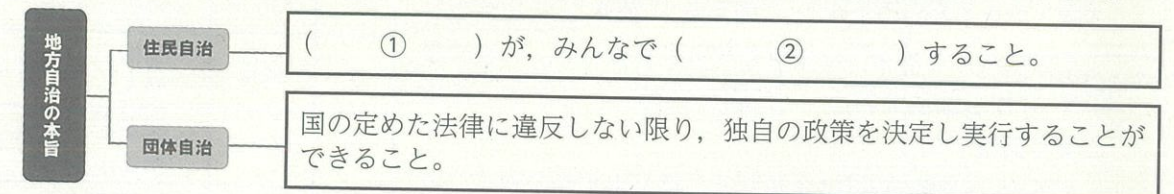
- A 内閣は、弾劾裁判所を設けて、裁判官を辞めさせることができる。
- B 裁判官は、自ら辞職する以外は辞めさせられることはない。
- C 裁判官は、自分の良心に従い独立してその職権を行い、憲法及び法律にのみ拘束される。

	A	B	C
ア	正	正	誤
イ	正	誤	正
ウ	誤	正	誤
エ	誤	誤	正

【資料Ⅵ】



問6 資料Ⅵについて、次の①・②に適切な語句を入れ、住民自治の説明文を完成させなさい。



【6】 次の表1は、ころさんが授業で書いた授業の振り返りシートである。次の各問いに答えなさい。

単元	授業の振り返り
1	商品が届くまで 工場や農家の人が作った商品がお店に並ぶまでには、両方をつなぐ業者が大事な役割を果たしている。 ^(A)
2	価格の働き 商品の値段は需要と供給の関係で決まることがわかった。だけど、価格があまり変わらない場合もある。 ^(B)
3	景気と私たちの生活 景気が良くなりすぎるのもよくないし、悪くなりすぎるのもよくないと思った。景気を安定させるため、金融政策が行われている。 ^(C)
4	労働環境の変化と課題 日本の人口が少なくなると、働く人が少なくなるので不安になった。これからは情報技術が進み、働き方が変わっていくことがわかった。 ^(D)
5	グローバル化と金融 最近は、外国の企業が日本にたくさんあったり、日本の企業が外国に進出したりしていることが多いと思う。 ^(E)
6	これからの日本の財政 財政赤字の問題について知り、自分もたくさんの借金を抱えているのかと疑問に思った。 ^(F)

表1

問1 下線部(A)について、生産された商品が消費者に届くまでの流れを何というか答えなさい。

問2 下線部(B)について、図1はある商品の価格の推移を表しています。この商品が、「天候不具合で生産量が減少したため、価格が上昇した」ことを表したグラフを、次のア～エのうちから1つ選び、記号で答えなさい。

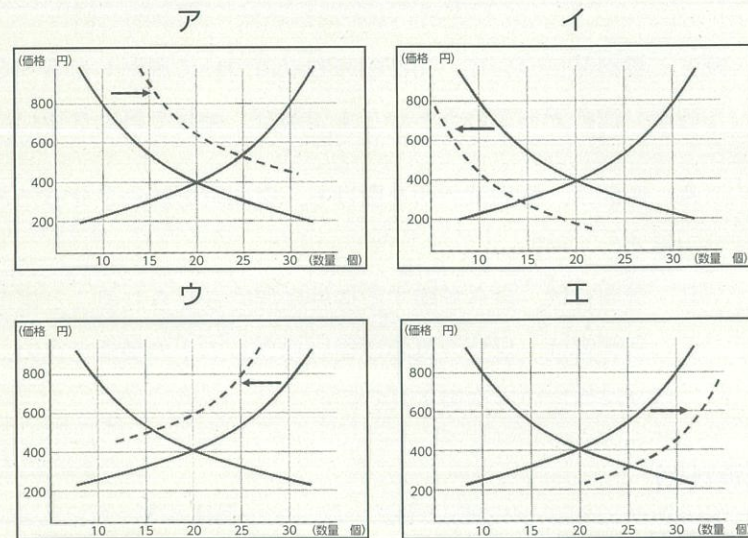


図1

問3 下線部(C)について、次の日本銀行の金融政策に関する説明文を読んで、①～③にあてはまる語句の組み合わせを、右のア～エのうちから1つ選び、記号で答えなさい。

景気が良くなるとインフレーションが起こり、同じ金額で購入できる商品の量が①（増える・減る）ことがある。そのため、日本銀行は景気を安定させるため、一般の銀行②（から国債を買う・に国債を売る）ことで、通貨の量を調整する。すると、一般の銀行は企業などに貸し出す際の利子（金利）を③（上げる・下げる）ようになる。


	①	②	③
ア	増える	から国債を買う	上げる
イ	減る	に国債を売る	上げる
ウ	増える	に国債を売る	下げる
エ	減る	から国債を買う	下げる

問4 下線部(D)について、情報技術の活用について述べたものとして誤っているものを、次のア～エのうちから1つ選び、記号で答えなさい。

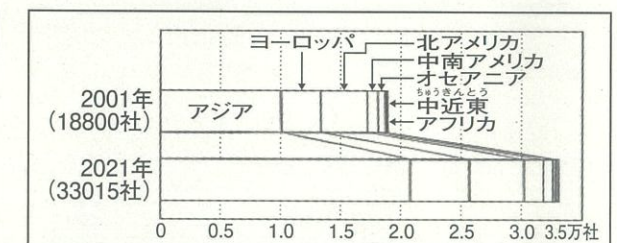
- ア 現代では、コンピュータやインターネットなどの情報通信技術（ICT）が発達し、様々な分野で活用されている。
- イ 情報通信技術（ICT）を使って集めた多くの情報から、推論したり判断したりする人間の知能をコンピュータに持たせたものを、人工知能（AI）とよび、様々な場面で活用されている。
- ウ SNSなどにうその情報を書くような情報リテラシーに反する行為をとらない、情報を正しく利用する態度が求められている。
- エ 情報化が進んだことにより、SNSで個人情報が特定されるトラブルや企業が保管する個人情報の流出、情報システムの障害で社会が混乱するといった事態も起きている。

問5 下線部(E)について、日本企業の海外進出について、グラフ1～3からわかることをまとめた次の文章の（X）と（Y）にあてはまる語句をそれぞれ答えなさい。

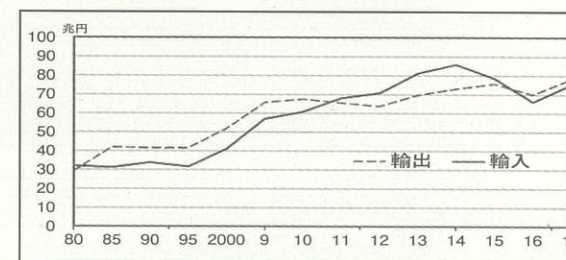
グラフ1 日本と主な国の賃金



グラフ2 地域別の海外進出している日本企業



グラフ3 日本の貿易額の推移



出典 グラフ1『全米産業審議会資料』
グラフ2『海外進出企業総覧』2018年ほか
グラフ3『財務省資料』

※グラフ1は、日本を100とした場合の、製造業全雇用の賃金（中国は2013年の参考値、それ以外は2016年）
※グラフ3は、貿易収支【輸出（外国へ製品などを販売した額）と輸入（外国から製品などを購入した額）の推移】を表す。

グラフ1とグラフ2から、日本より賃金が高い（X）地域へ日本企業が多く進出していることがわかる。グラフ3より、2011年～2015年の日本の貿易額は、1980年～2010年までの貿易額に比べ、貿易（Y）の状態になっている。

問6 下線部(F)について、図2は政府の役割と国民の税負担を表している。このうち、「大きな政府」の考え方は図のどちらにあてはまるか。図2中のア～エのうちから1つ選び、記号で答えなさい。

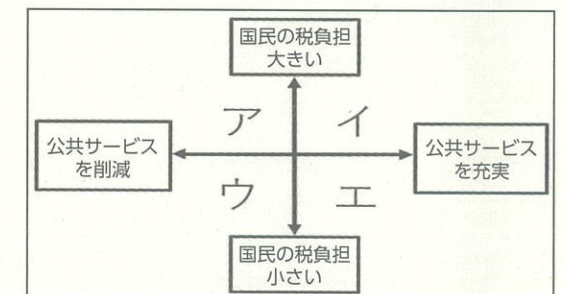


図2